

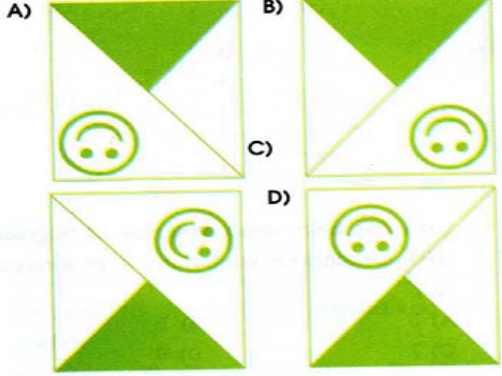
# Eşlik ve Benzerlik

Adı Soyadı: .....

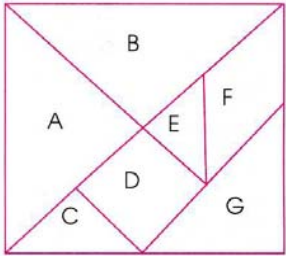
1.)



Seçeneklerden hangisi yukarıdaki şekle eşittir?



2.)

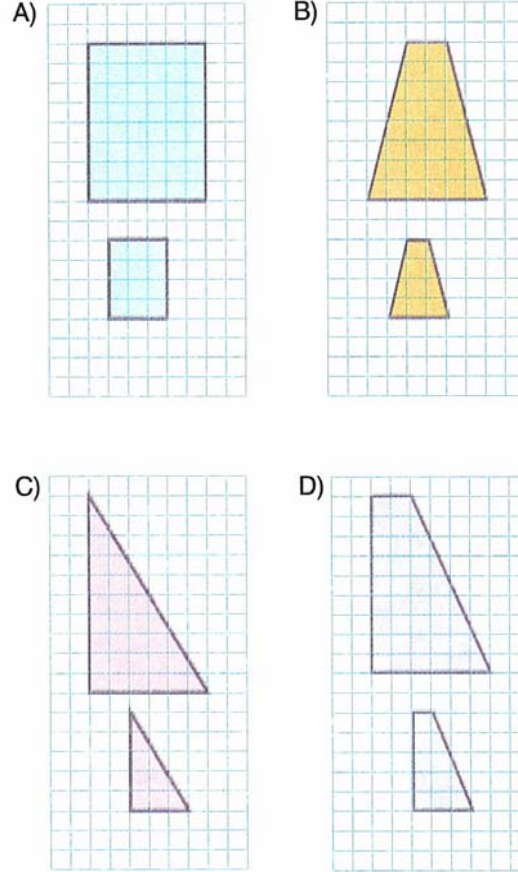


Tangramdaki geometrik şekillerle ilgili olarak seçeneklerden hangisi yanlıştır?

- A) A ile B eşittir.  
B) C ile E eşittir.  
C) F ile D benzerdir.  
D) G ile A benzerdir.

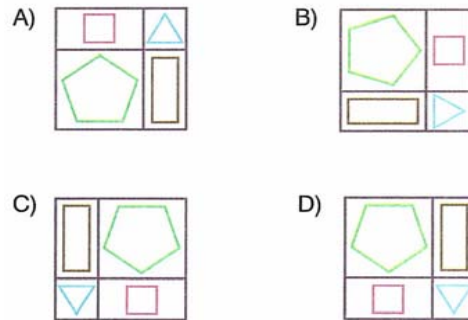
3.)

Aşağıdaki şekillerin hangisinde benzer şekiller yoktur?



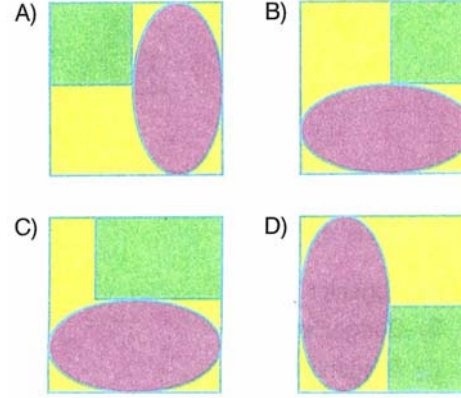
4.)

Aşağıda verilen şekillerden hangisi diğerlerinden farklıdır?

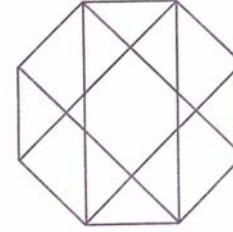


5.)

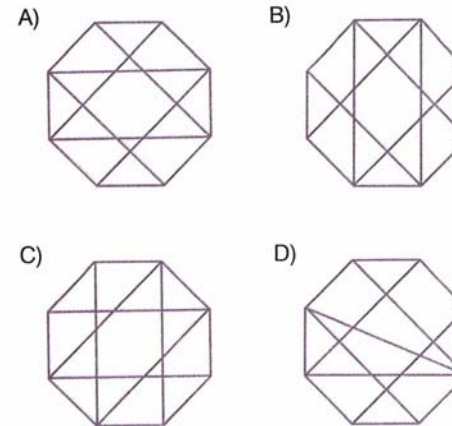
Aşağıda verilen şekillerden hangisi diğerlerinden farklıdır?




6.)



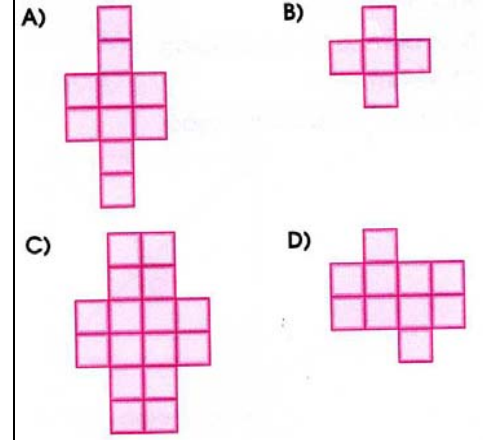
Aşağıdakilerden hangisi yukarıda verilen şeklin benzeri değildir?



7.)

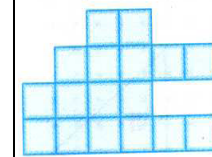


Seçeneklerden hangisi yukarıdaki şekil ile benzerdir?

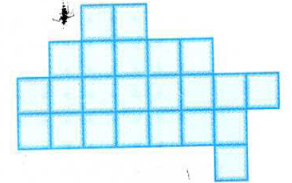


8.)

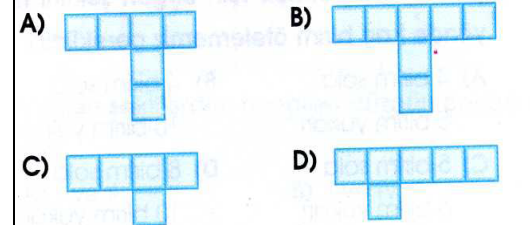
Şekil I



Şekil II

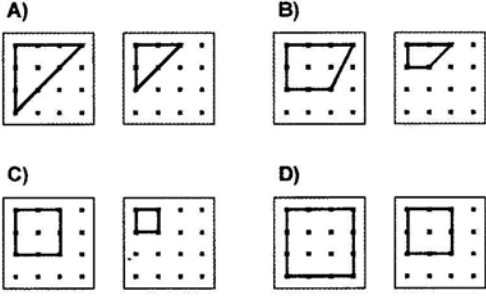


Şekillerin birbirine eş olabilmesi için I. şekle seçeneklerden hangisi eklenmelidir?



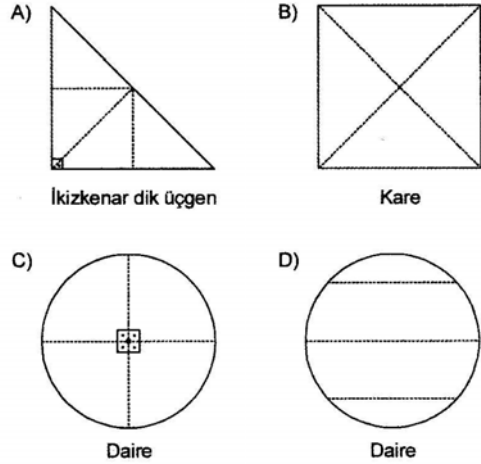
9.)

Aşağıdakilerden hangisi benzer iki şekil değildir?



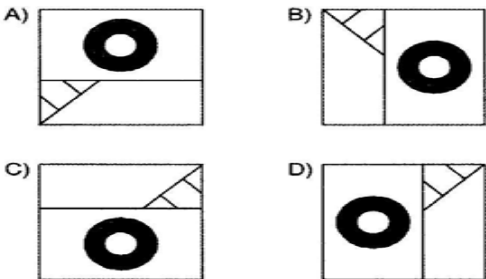
10.)

Aşağıdaki şekillerden hangisinde verilen şekil belirtilen çizgilerden kesilince eş parçalar ortaya çıkmaz?

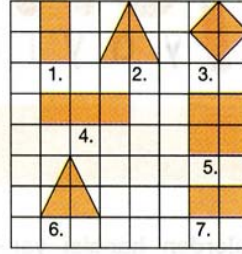


11.)

Aşağıdakilerden hangisi farklıdır?



12.)



Yukarıdaki eş karelere ayrılmış şema üzerindeki geometrik şekiller gösterilmiştir.

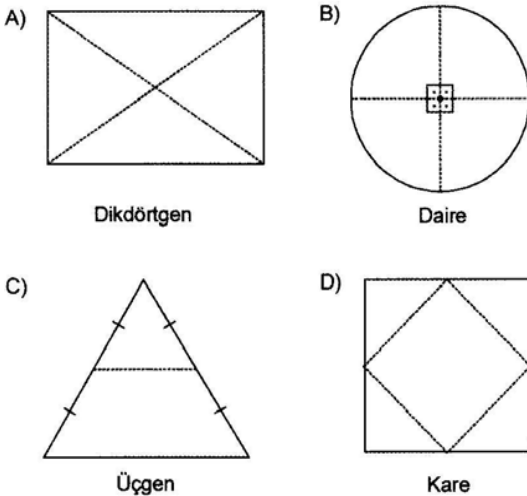
Buna göre, aşağıdakilerden kaç tanesi yanlıştır?

- I. 1 ve 7 eştir.  
II. 2 ve 5 benzerdir.  
III. 2 ve 6 eştir.  
IV. 1 ve 4 eştir.  
V. 3 ve 6 benzerdir.

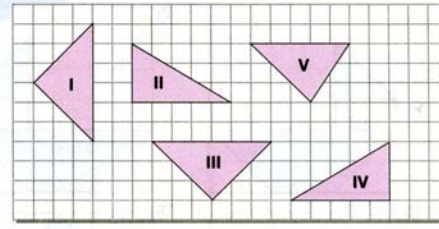
A) 2 B) 3 C) 4 D) 5

13.)

Aşağıdakilerden hangisinde, belirtilen çizgilerden kesilince oluşan tüm parçalar birbirine eş olur?



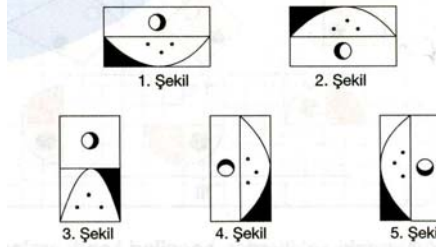
14.)



Yukarıda numaralandırılarak verilmiş şekillerden hangi ikisinin birleşiminden bir kare elde edilebilir?

- A) I ve II B) II ile III  
C) II ile V D) I ile III

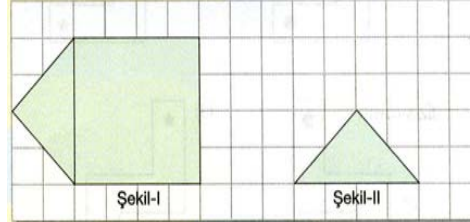
15.)



Yukarıdaki şekillerden hangileri birbirleriyle eştir?

- A) 1 ve 4, 2 ve 5 B) 1 ve 5, 2 ve 4  
C) 2 ve 3, 4 ve 5 D) 1 ve 2, 3 ve 4


16.)



Yukarıda verilen şablonda şekil-I in içinde, şekil-II ye eş kaç tane üçgen oluşabilir?

- A) 3 B) 4 C) 5 D) 6

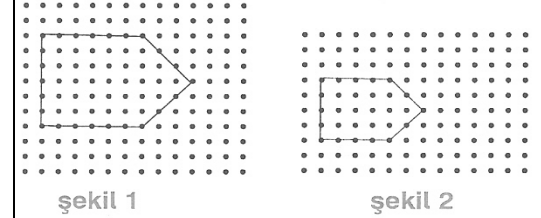
17.)



Yukarıdaki birim karelere ayrılmış zemin üzerinde verilen şekillerden hangileri eş değildir?

- A) A ile B B) A ile C  
C) A ile D D) C ile D

18.)



Yukarıda I. şekil ve II. şekille ilgili aşağıdakilerden hangisi doğrudur?

- A) Eş B) Denk  
C) Benzer D) Paralel

► Sorular çeşitli kaynaklardan yararlanılarak derlenmiştir.

Emre UĞUR  
Matematik Öğretmeni