

5. SINIF DENEME SINAVI - 2

A

KİTAPÇIĞI

Adı :

Soyadı :

Öğrenci Numarası :

SINAV KİTAPÇIĞIMIZ "SÖZEL VE SAYISAL" OLMAK ÜZERE İKİ BÖLÜMDEN OLUŞMAKTADIR.
KİTAPÇIĞIMIZDA SÖZEL 45 SORU, SAYISAL 30 SORU OLMAK ÜZERE TOPLAM 75 SORU VARDIR.
SINAV SÜRESİ SÖZEL BÖLÜM İÇİN 65, SAYISAL BÖLÜM İÇİN 45 DAKİKADIR.

ÖĞRENCİLERİN DİKKATİNE

1. Sınıf öğrenci yoklama listesinde belirtilen sınıfta ve sıra numarasında oturunuz.
2. Cevap kâğıdındaki kimlik bilgilerinin doğruluğunu kontrol ediniz.
3. Kitapçık türünü cevap kâğıdındaki ilgili alana kodlayınız.
4. Cevap kâğıdı üzerindeki kodlamaları kurşun kalemle yapınız.
5. Puanlama; her test için yanlış cevap sayısının üçte biri, doğru cevap sayısından çıkarılarak elde edilecek geçerli cevaplar üzerinden yapılacağı için cevap kâğıdı üzerinde rastgele cevaplama yapmayınız.

SINAVA BAŞLAMADAN ÖNCE

KİTAPÇIĞIN ARKA KAPAĞINDAKİ UYARILARI MUTLAKA OKUYUNUZ.

SÖZEL BÖLÜM

SORU SAYILARI

TÜRKÇE	: 15 soru
SOSYAL BİLGİLER	: 10 soru
DİN KÜLTÜRÜ VE AHLAK BİLGİSİ	: 10 soru
İNGİLİZCE	: 10 soru
SINAV SÜRESİ	: 65 dakika

A

TÜRKÇE

A

1. Bakmış ki padişah,
Oğlu gün günden büyüyor,
Büyüyüp geliyor.
Şunu demek istiyorum,
Oğlu babasını geçiyor.
(Rıfat Ilgaz)

Bu dizelerde “geçmek” sözcüğü aşağıdaki anlamlarından hangisiyle kullanılmıştır?

- A) Zamanı aşmak, geride bırakmak
B) Söylemeden veya bitirmeden atlamak
C) Geride bırakmak, aşmak
D) Bırakmak, vazgeçmek

2. Berk, geceleri gökyüzünü pırıl pırıl aydınlatan Ay'a hayrandır. Ay'a bakarak uykuya dalar-ken güzel hayaller kurar. En büyük hayali de astronot olmaktır. Ama bir gece bakar ki Ay'ın yerinde yeller esiyor. Büyük bir üzüntüye kapılan Berk, Ay'ı birilerinin çaldığını düşünüp aramaya koyulur.

Bu parçadaki altı çizili deyimın anlamı aşağıdakilerden hangisidir?

- A) Artık bulunmamak, yok olmak
B) Zarar görmek, yıkılmak
C) Gücenmek, alınmak, darılmak
D) Sık sık sağa sola yön değiştirmek

3. • Halıda tek adımlık temiz yer yoktu.

I

- Evlerinin camları yıl boyu kirliydi.

II

- Odada sararmış ve pis bir musluk vardı.

III

- Adamda birazcık olsun yüz yok ki.


IV

Bu cümlelerdeki altı çizili sözcükler için aşağıdakilerden hangisi söylenemez?


- A) I ve II. sözcükler zıt anlamlıdır.
B) II ve III. sözcükler eş anlamlıdır.
C) IV. sözcük mecaz anlamdadır.
D) III ve IV. sözcükler eş seslidir.

HIZ YAYINLARI


4.




Penguen



Papağan



Salyangoz



Sivrisinek

Bu görsellerde numaralanmış hayvanların isimleri, sözlükteki sıralamasına göre dizildiğinde kaç numaralı olan başta yer alır?

- A) 1. B) 2. C) 3. D) 4.

5. MS 100'lü yıllarda Roma Dönemi'nde yapılan Celsus Kütüphanesi, Efes antik kentinde bulunan en güzel ve en büyük yapılardan biridir.

Bu cümleyle öznellik katan ifade aşağıdakilerden hangisidir?

- A) MS 100'lü yıllarda
B) Roma Dönemi'nde
C) en büyük
D) en güzel

6. (I) Uyandığım da sanki yüzümde karınca doluyordu. (II) Başımı hafif çevirince babamın gazetesini okurken, annemi de örgü örerken buldum. (III) Sanırım yüksek yastıkta uyuduğum için biraz boynum ağrımişti. (IV) Annem uyanıncam görünce çabucak iyileşmem için bir bardak mis gibi ihlamur getirdi.

Bu metinde numaralanmış cümlelerden hangisinde amaç-sonuç ilişkisi vardır?

- A) I. B) II. C) III. D) IV.









7. Anlattığım şeylerin büyükler tarafından sıkıcı bulunduğunun farkındayım. Evet, işlerinden dolayı bana çok fazla vakit ayıramıyorlar. Buna da sözüm yok! Ancak anlattıklarım ne kadar sıkıcı ve basit olursa olsun, en azından beni dinlemeli ve duygularımı ifade etmeme müsaade etmeliler. Aksi hâlde içimde kalan duygular bir öfkeye dönüşüyor. Tepkimi dile getirince de bana hemen "Sus!" deniyor. Keşke ne hissettiğim, neden bu şekilde davrandığım bana sorulsa. Keşke hislerimi paylaşmam için bana birazcık fırsat verilse.

Bu sözleri söyleyen çocuk, büyüklerin hangi davranışından yakınmaktadır?

- A) Duygularını dile getirmesine izin vermemelerinden
B) Anlattıklarını çoğu zaman sıkıcı bulmalarından
C) Kendisini haksız yere azarlamalarından
D) Kendisine yeterince zaman ayırmamalarından

8. Yılmaz ailesi Meral Hanım, Cem Bey, Melis ve Ozan'dan oluşan dört kişilik bir ailedir. 6. yaş gününü geçen hafta kutlayan Melis'in, ağabeyi Ozan'la arasında 7 yaş vardır. Sıkı bir belgesel takipçisi olan aile, cumartesi günü yayımlanan bir belgeseli birlikte izleyip keyifli dakikalar geçirmektedir. Ancak pazar günü yayımlanan belgeseli ekranın köşesindeki akıllı işaret nedeniyle Melis izleyememektedir. Meral Hanım, Cem Bey ve Ozan'ın birlikte izlediği bu belgesel, aslında konusu itibarıyla daha büyüklerle hitap ettiği için Melis'in ilgisini de çekmeyecek türdendir.

Buna göre cumartesi ve pazar günleri yayımlanan belgesellerin akıllı işaretleri aşağıdakilerden hangisinde doğru verilmiştir?

	Cumartesi	Pazar
A)	 Genel İzleyici Kitlesi	 13 Yaş ve Üzeri için
B)	 7 Yaş ve Üzeri için	 13 Yaş ve Üzeri için
C)	 Genel İzleyici Kitlesi	 Şiddet / Korku
D)	 13 Yaş ve Üzeri için	 7 Yaş ve Üzeri için

9. Bir eve fareler üşüşmüş. Bir kedi bunu haber almış, o eve gitmiş. Artık fareleri birer birer tutup yiyormuş. Fareler bakmışlar ki olacak gibi değil, hep yakalanıyorlar, "Bari deliğimizden çıkmayalım!" demişler. Kedi işi anlamış, o da bir düzen kurmuş. Odada tahta bir takoz varmış, oraya tırmanmış, kendisini asıp ölü gibi öyle durmuş. Farelerden biri delikten başını uzatıp bakmış, kediyi o durumda görünce "Kurnazlığına diyecek yok, dostum! Ama ne yalan söyleyeyim? Sen çuval olsan, ben gene yaklaşmam senin yanına!" demiş.

Bu metnin türünden hareketle metinle ilgili aşağıdakilerden hangisi söylenemez?

- A) Ders verici bir nitelik taşımaktadır.
- B) Günlük hayatta yaşanabilecek olaylara yer verilmiştir.
- C) İnsana ait davranışlar, insan dışındaki varlıklara yüklenmiştir.
- D) Varlık kadrosu hayvanlardan oluşmaktadır.

10 ve 11. soruları aşağıdaki metne göre cevaplayınız.

Âlimin birine bir adam "Gel seninle biraz sohbet edelim." demiş. Âlim de "Tut şu dünyayı dönmessin, öyle sohbet edelim." karşılığını vermiş. Adam şaşırıp "Neden?" diye sorunca âlim de şöyle cevap vermiş: "Çünkü dünya dönüyor ve vakit tükeniyor. Ya vakti durdur sohbet edelim ya da çekil ki geçen saatleri iyi değerlendirelim."

10. Bu parçanın konusu aşağıdakilerden hangisidir?

- A) Sohbetin gereksizliği
- B) Zamanın çabucak geçmesi
- C) Dünyanın dönmesi
- D) Zamanın önemi

11. Bu parçanın ana düşüncesini aşağıdaki atasözlerinden hangisi açıklar?

- A) Vakit, nakittir.
- B) Aba vakti yaba, yaba vakti aba.
- C) Zaman sana uymazsa sen zamana uy.
- D) Aç aman bilmez, çocuk zaman bilmez.

12. Kadının biri sabah uyanmış, aynaya bakmış ve kafasında yalnız üç tel saç kaldığını görmüş. Kendi kendine "Galiba bugün saçımı örgü yapacağım." demiş ve öyle de yapmış, günü de harika geçirmiş. Ertesi gün uyanıp aynaya bakmış, kafasında iki tel saç kaldığını görmüş. "Bugün saçımı ikiye ayırmalıyım." demiş kendi kendine. Dediğini de yapmış, harika bir gün daha geçirmiş. Ertesi sabah aynaya baktığında kafasındaki tek tel saç görmüş. Gene moralini bozmamış. "Tamam, bugün saçımı atkuyruğu modeli yapabilirim." diye mırıldanmış. Dördüncü gün, bir bakmış ki kafasında tek tel bile yok. "Yaşasın!" diye bağırması. "Artık saç derdim yok."

Bu metinde sözü edilen kadının bakış açısı aşağıdakilerden hangisinde verilmiştir?

- A) Duygusal
- B) Yenilikçi
- C) Tarafsız
- D) İyimser

HIZ YAYINLARI

13. İyi bir eğitim öğretim yılı geçirmemiz için çok çalışmanın yanında yapabileceğimiz bir şey daha var. O da - - - - Yapılan araştırmalar besinleri belirli ölçülerde ve düzenli olarak almanın sadece büyüme ve gelişme açısından değil, okul başarısı açısından da son derece önemli olduğunu ortaya koyuyor. Diğer bir ifadeyle, yiyeceklerin kas ve kemik sağlığının yanı sıra beyin sağlığı, zihinsel gelişim ve dikkat becerileri üzerinde de etkileri var.

Bu parçada boş bırakılan yere düşüncenin akışına göre aşağıdakilerden hangisi getirilmelidir?

- A) sağlığımıza dikkat etmektir.
- B) çalışma yöntemini değiştirmektir.
- C) yeterli ve dengeli beslenmektir.
- D) hedefe kilitlenmektir.

14. Bu dünya ne tuhaf
Alışmadım bir türlü denize,
Beş kıtaya, insan sesine.
Her gün yeniden düşünüyorum hepsini.
Alışmadım desem doğrudur
Ellerime.

(Melih Cevdet Anday)

Bu dizelerin şairinin içinde bulunduğu duyguyu ortaya koyan yüz ifadesi aşağıdakilerden hangisidir?

A)



B)



C)



D)



15. Aşağıda virgülün cümledeki görevleri ve bununla ilgili örnek cümleler verilmiştir.

	Virgülün Görevi	Örnek Cümle
I.	Art arda gelen, birbiri ile bağlantılı cümleleri ayırmak	Okullar açıldı, bir üst sınıfa geçtik.
II.	Birbiri ardınca sıralanan eş görevli kelimeleri ayırmak	Sıcaktan, gürültüden uyuyamıyordu.
III.	Ret, kabul veya teşvik bildirmek	Yiyeceklerle karnınızı doyurun, dedi.
IV.	Tekrarlanan kelimeler arasına konup anlama güç kazandırmak	Soğuk, soğuk, buz gibi soğuk bir havaydı.

Buna göre virgülün numaralanmış görevlerinden hangisi, örneğiyle uyuşmamaktadır?

- A) I. B) II. C) III. D) IV.

1. Bir futbol kulübünün şampiyonluk kutlamaları sürecinde yaşanan bazı gelişmeler şöyledir:
- Ali ve babası kutlamalara büyük bir coşkuyla katılmıştır.
 - Nagihan hanım kutlamaların yapıldığı bölgede yaşanan trafik yoğunluğu nedeniyle işine geç kalmıştır.
 - Polis memuru Hasan bey kutlamalarda görevli olduğu için kızının doğum günü partisine katılamamıştır.

Bu gelişmeleri aşağıdakilerden hangisiyle açıklamak daha doğrudur?

- A) Toplumsal rollerimiz değişkendir.
 B) Yaşanan olaylar çok boyutlu sonuçlar doğurabilir.
 C) Yaşanan sorunları haklarımız çerçevesinde çözümlenebiliriz.
 D) Her olay toplumda yaşayan herkesi doğrudan etkiler.

2. Madde 13: Çocuk, düşüncesini özgürce açıklama hakkına sahiptir; bu hak, ülke sınırlarına bağlı olmaksızın; yazılı, sözlü, basılı, sanatsal biçimde veya çocuğun seçeceği başka bir araçla her türlü haber ve düşüncelerin araştırılması, elde edilmesi ve verilmesi özgürlüğünü içerir.

Birleşmiş Milletler Çocuk Haklarına Dair Sözleşme’de yer alan bu maddeyle aşağıdakilerden hangisi amaçlanmıştır?

- A) Çocukların toplum içinde kendilerini ifade edebilmelerini sağlamak
 B) Çocukların yetişkinlerle aynı sorumluluklara sahip olmalarını sağlamak
 C) Çocukların aileleri için maddi kazanç elde etmelerini sağlamak
 D) Çocukların okul kurallarına uymalarını sağlamak

3. Anadolu’da bir yerleşim yerinde gerçekleştirilen arkeolojik kazıda demirden yapılmış saban kalıntıları bulunmuştur.

Buna göre bu bulgular orada yaşayan toplumun aşağıda verilen ekonomik faaliyetlerden hangisiyle uğraştığını kanıtlar?

- A) Ticaret
 B) Turizm
 C) Tarım
 D) Ormancılık

4. Kral Yolu üzerinde kurulmuş olan Lidyalılar, ekonomik faaliyetlerin kendilerine kazandırdığı servetle komşu devletlere göre bilim, sanat ve teknikte üstün bir uygarlık seviyesine çıkmışlardır.

Buna göre Lidyalıların gelişmesinde aşağıdakilerden hangisi rol oynamış olabilir?

- A) Askeri açıdan güçlü olmaları
 B) Ticaret yolu üzerinde bulunmaları
 C) Madencilik sanatında ileri olmaları
 D) Devlet yönetiminde tüccarların da etkili olması

5. Mısırlılardan öğrendikleri hiyeroglif yazısını kullanan Hititler, tanrılarına hesap vermek amacıyla anal adı verilen yıllıklar tutarlardı. Bu yıllıklar tarafsız tarih yazıcılığının başlangıcı olarak kabul edilmiştir.

Bu bilgilere göre Hititlerle ilgili aşağıdakilerden hangisi söylenemez?

- A) Ekonomik açıdan güçlü oldukları
 B) Dini inançlara önem verdikleri
 C) Yazılı kültürün geliştiği
 D) Farklı uygarlıklardan etkilendikleri

6. İyonlar bilim, astronomi, sanat, tıp ve felsefe alanında ilerlemişlerdir. Tales ve Pisagor, matematik-astronomi; Hipokrat tıp; Homeros, edebiyat; Herodot, tarih; Diyojen, felsefe alanında önemli çalışmalar yapmış bilim insanlarıdır.

Buna göre İyonlarda bilim ve düşüncenin gelişmesinde aşağıdakilerden hangisi rol oynamıştır?

- A) Anadolu'nun batısında kurulmuş olmaları
B) Mimari açıdan ihtişamlı şehirler kurmuş olmaları
C) Askeri teşkilata önem vermeleri
D) Özgür düşüncüyü benimsemiş olmaları

7. Çivi yazısını icat ederek insanlık tarihine önemli katkılar sağladılar. Yazının kullanılması sonucunda da ilk yazılı hukuk kurallarını oluşturdular.

Parçada tanıtılan Mezopotamya uygarlığı aşağıdakilerden hangisidir?

- A) Sümer
B) Babil
C) Frig
D) Asur

8. Atatürk Ortaokulu 5.sınıf öğrencileri Ankara'ya düzenledikleri bir gezide Anadolu uygarlıklarına ait eserlerin sergilendiği Anadolu Medeniyetleri Müzesini ziyaret etmişlerdir. Ardından öğrenciler bu müzede gördükleri eserleri etkinlik kağıtlarına not almışlardır.

Buna göre aşağıdaki öğrencilerden hangisinin aldığı not yanlıştır?

- A) Doğu: Friglere ait ana tanrıça heykeli
B) Sude: Çinlilere ait yazı örnekleri
C) Melis: Hititlere ait güneş kursu
D) Kıvanç: Frig kralı Midas'a ait ahşap masa

9. Doğada insan eli değmeden oluşan, gezilip görülebilecek eşsiz güzellikteki yerler ve unsurlar "doğal varlık" olarak nitelendirilir. Yurdumuz doğal varlıklar bakımından oldukça zengindir. Doğal varlıklar kendiliğinden oluşur, insanlar tarafından bu varlıklar sonradan keşfedilir.

Buna göre aşağıdakilerden hangisi doğal varlık olarak nitelendirilemez?

- A) Manyas Kuş Cenneti Millî Parkı
B) Peri Bacaları
C) Abant Gölü
D) Çatalhöyük Antik Kenti

10. Osmanlı Devleti padişahı Yıldırım Beyazıt tarafından yaptırılan Ulu Camii, Bursa'nın sembolü olan tarihî eserlerden biridir. Camide 20 kubbe ve 18 şadırvan bulunmaktadır. Ülkemizde Erzurum, Kütahya, Mardin, Sivas, Diyarbakır ve Manisa'da da Ulu Camii adıyla bilinen camiler bulunmaktadır. Bu camilerde kullanılan süslemeler görenleri kendine hayran bırakmaktadır.

Yukarıda verilen tarihi mekanları gezen bir turist kafilesi Türk kültürü hakkında aşağıdaki bilgilerden hangisine ulaşamaz?

- A) Dini hayat
B) Mimari tarz
C) Ekonomik yapı
D) Sanat anlayışı

1. Geldi yine ramazan
Gönüllerimizi aydınlatan
Hem indi bu ayda Kur'an
Hoş geldin kutlu ramazan
Sahurda güm güm davulunla
Zengin iftar sofralarında
İmsak vakti aydınlığıyla
Hoş geldin misafirim ramazan





Aşağıdakilerden hangisi bu şiirde vurgulanan husulardan biri değildir?

- A) Ramazanın gönülleri aydınlatan bir ay olduğu
B) Ramazanın Kur'an ayı olduğu
C) Ramazan orucu tutmanın farz olduğu
D) Ramazanın imsak ve iftarla anlam kazandığı
2. En güzel dua örneklerini Kur'an-ı Kerim'de ve Hz. Muhammed'in (s.a.v.) sözlerinde bulabiliriz ama yine de içimizden geldiği gibi dua etmek de mümkündür.

Buna göre aşağıdakilerden hangisi bir dua cümlesi olabilir?

- A) "Herkes haklı, bence sen de haklısın."
B) "Aynadaki yüz, benim yüzüm mü Allah'ım."
C) "Öğretmenim beni anlamıyor diye çok üzülüyorum."
D) "Allah'ım! Sana şükürler olsun ki, gözlerim görüyor."

3. Aşağıdaki görsellerden hangisi tevhit inancını **çağırıştırır**?

- A) 
- B) 
- C) 
- D) 

4. İslam'a göre, akıllı ve ergenlik çağına gelmiş Müslümanların yapmakla yükümlü olduğu ibadetlerden biri de Ramazan ayındaki farz orucu tutmaktır.

Buna göre, aşağıdaki ayetlerden hangisi oruç ibadetinin önemiyle ilgilidir?


- A) "Ey iman edenler! Allah'a karşı gelmekten sakınmanız için oruç, sizden öncekilere farz kılındığı gibi size de farz kılındı."
(Bakara suresi, 183. ayet)
- B) "... Rabbimiz! Bize dünyada da iyilik ver, ahirette de iyilik ver ve bizi ateş azabından koru."
(Bakara suresi, 201. ayet)
- C) "(Allah'ım!) Yalnız sana ibadet ederiz ve yalnız senden yardım dileriz."
(Fatiha suresi, 5. ayet)
- D) "Rabbimiz, bizi doğru yola ilettikten sonra kalplerimizi eğiltme, bize tarafından rahmet bağışla. Lütfu en bol olan sensin."
(Âl-i İmrân suresi, 8. ayet)

HIZ YAYINLARI

5.



Öğretmenim, neden hep zor zamanlarda dua ediyoruz da mutlu ve huzurlu olduğumuzda dua etmeyi unutuyoruz?



Yusuf Öğretmen

Ayşenaz'ın sorusuna Yusuf Öğretmen aşağıdaki cevaplardan hangisini verirse doğru olur?

- A) "Allah (c.c.) sadece zor zamanlarda edilen duaları kabul eder."
B) "Mutlu olduğumuz zamanlarda dua etmeye gerek yok ki."
C) "Haklısın, her durumda dua etmemiz gerekiyor."
D) "Peygamberimiz de zor zamanlarda dua ediyordu."

6. “De ki: O, Allah’tır, bir tektir. Allah Samed’dır (Her şey O’na muhtaçtır; O, hiçbir şeye muhtaç değildir.) O’ndan çocuk olmamıştır. (Kimsenin babası değildir.) Kendisi de doğmamıştır. (Kimsenin çocuğu da değildir.) Hiçbir şey O’na denk ve benzer de değildir.”

İhlas suresinin anlamından, aşağıdaki sonuçlardan hangisine ulaşılabilir?

- A) Allah’ın (c.c.) sonsuz merhameti olduğuna
B) Allah’ın (c.c.) eşsiz ve benzersiz olduğuna
C) Allah’ın (c.c.) ortakları olduğuna
D) Allah’ın bazı varlıklara muhtaç olduğuna

7. Hz. İbrahim (a.s.): “Siz, Allah’ı (c.c.) bırakıp size hiçbir fayda, hiçbir zarar veremeyecek şeylere nasıl tapıyorsunuz? Size de Allah’tan (c.c.) başka tapındığınız şeylere de yazıklar olsun! Hâlâ aklınızı başınıza almayacak mısınız?”

(Mâide suresi, 76. ayet)

Bu ayetten hareketle;

- I. Allah’tan başkasına tapmanın yanlış olduğu,
II. Tapınılan şeylerin hiçbir faydasının olmadığı,
III. Akılla Allah’ın (c.c.) varlığına ve birliğine ulaşılabilceği

sonuçlarından hangisine varılabilir?

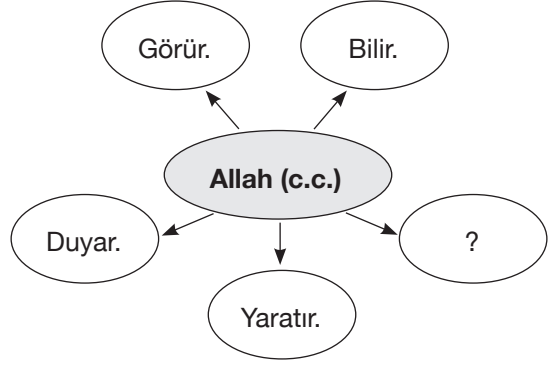
- A) I ve II
B) I ve III
C) II ve III
D) I, II ve III

8. Atasözlerimizde ve deyimlerimizde Allah kelimesinin çokça geçtiği bilinen bir gerçektir.

Aşağıdaki seçeneklerden hangisinde Allah kelimesi farklı bir amaçla kullanılmıştır?

- A) “Allah başışlasın!”
B) “Allah bir yastıkta kocatsın!”
C) “Allah akıl fikir versin!”
D) “Allah vardır ve birdir.”

9.



Diyagramda boş bırakılan yere aşağıdakilerden hangisi getirilebilir?

- A) Dinlenir.
B) Güçlüdür.
C) Uyur.
D) Okur.

10. Dünyamızı ve bizi en güzel şekilde yaratan, bizim için nimetler var eden Yüce Allah, bir ve tektir. Varlıklar arasında görülen uyum ve düzen ancak tüm bunları yaratanın bir ve tek olması ile gerçekleşir. Her şeyi yaratan ve düzenleyen Allah (c.c.) bir ve tek olmasaydı hem hayatımızda hem de evrenin işleyişinde düzensizlikler ortaya çıkardı.

Bu paragraftaki düşünceye aşağıdaki ayetlerden hangisi örnek gösterilemez?

- A) “Eğer yerde ve gökte Allah’tan başka ilahlar olsaydı kesinlikle ikisinin de düzeni bozulurdu...”
(Enbiya suresi, 22. ayet)
- B) “De ki: O, Allah’tır, bir tektir. Allah Samed’dır. (Her şey ona muhtaçtır; o, hiçbir şeye muhtaç değildir.)...”
(İhlas suresi, 1 ve 2. ayetler)
- C) “Kullarım beni senden sorarlarsa, bilsinler ki, gerçekten ben onlara çok yakınım. Bana dua edince, dua edenin duasına cevap veririm...”
(Bakara suresi, 186. ayet)
- D) “Sizin ilahınız bir tek ilahdır. Ondan başka ilah yoktur. O Rahman’dır, Rahîm’dır.”
(Bakara suresi, 163. ayet)

1-3. sorularda verilen boşluklara uygun gelen ifadeyi işaretleyiniz.

1. **Nicola:** Which classes do you like, Olivia?

Olivia: Chinese and French.


Nicola: Hmmm. - - - -, right?


Olivia: Yes. It's my favourite. And you?

Nicola: I love languages, too. But they are really hard.


- A) You like speaking languages
- B) I am good at sports
- C) You have six classes today
- D) I study at a high school


2.


Gareth



Hannah


-----, Gareth?


Gareth



Hannah

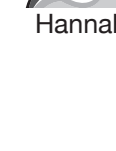
No, I can't.


Gareth



Hannah


What about playing marbles?


Gareth


Hannah

Oh, I hate it. Can you do roller skating?


Gareth


Hannah

Yes, I can. Let's do roller skating then.

OK.

- A) Which activities do you like
- B) Do you like swimming
- C) What can we play
- D) Can you play chess

3. **Paul:** - - - - ?

Lauren: I.T., maths, social studies, art and double drama.

Paul: Drama and art? Oh, they're my favorite.

Lauren: I love art because I am good at drawing pictures, but I hate drama.

- A) What are your favorite activities
- B) Is drama on Thursday
- C) Which classes do we have tomorrow
- D) Are you good at doing experiments

4.



Yukarıdaki görselde hangi yön ifadeleri vardır?

- A) Turn left - Go straight
- B) Cross the road - Turn right
- C) Go past - Take the second left
- D) Go straight - Walk on road

5.



Hi, I'm Rachel. This is my school. I study at 7th grade. There is a science lab and a computer lab in my school. The computer lab is next to the Turkish class and opposite the maths class. The English class is between the science lab and the maths class. The music class is opposite the science lab. The social studies class is next to the maths class. The art class is opposite the social studies class.

Where is the maths class?

- A) It is next to the English class.
- B) It's opposite the music class.
- C) It is between the social studies class and the art class.
- D) It's opposite the science lab.

6.



They are Morris, Ryan and Martin. They are from Australia. They live in Sydney. They like playing football and basketball. Ryan loves going fishing with his dad and collecting stamps. Morris enjoys sculpting. He rides his bike in the park after school. Martin's hobby is ice skating. He also likes going camping with his family.

Aşağıdakilerden hangisi öğrencilerin yaptığı etkinliklerden biri değildir?

A)



B)



C)

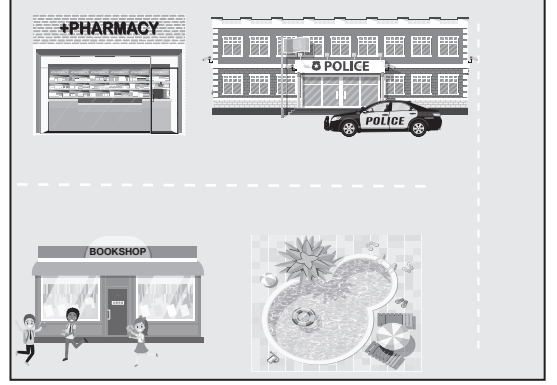


D)



7. Aşağıdaki haritalardan hangisinde verilen açıklama yanlıştır?

A) There is a pharmacy opposite the bookshop. It's next to the police station.




B) The bus stop is behind the bank and in front of the school.



C) The cafe is between the hospital and the pharmacy.



D) There is a fire station near the park in the town.



HIZ YAYINLARI

8. **Atatürk Elementary School**

Physical Education Activities

Aşağıdaki ifadelerden hangisi derste yapılan bir etkinlikten bahsetmektedir?

- A) I play hide and seek with my friends.
 B) Sude and Elif play checkers at P.E.
 C) Emre does origami at physical education.
 D) Yusuf plays keepy uppy every week.

9 ve 10. soruları haritaya göre cevaplayınız.



9. **Sophie:** Excuse me, - - - - ?

Walker: Well, go straight ahead and take the second left. Go past the bank. It's on your right.

Sophie: Thanks a lot.

Walker: You're welcome.

- A) is there a bakery near here
 B) how can I get to the library
 C) where is the stationery
 D) is there a toy shop in this neighbourhood

10. Aşağıdakilerden hangisi haritada yoktur?



SAYISAL BÖLÜM

SORU SAYISI

MATEMATİK

: 15 soru

FEN BİLİMLERİ

: 15 soru

SINAV SÜRESİ

: 45 dakika

A

MATEMATİK

A

1. 74 8_3 056 sekiz basamaklı sayısında boş bırakılan basamakta bulunan rakamın basamak değeri sayı değerinden 9 999 fazla olduğuna göre bu rakam kaçtır?

A) 9 B) 6 C) 3 D) 1

2.



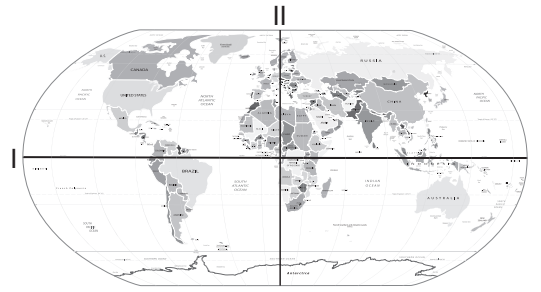
Alaca doğan olarak da bilinen gökdoğan kuşu yırtıcı bir kuş türü olup dünyanın en hızlı hayvanıdır. Gökdoğan özellikle avını gördüğü zaman havadan yere doğru kendine özgü tekniğiyle maksimum hızla dalış yapmaktadır.

Dünyaca ünlü bir bilim dergisinin bir gökdoğan kuşunun hızını ölçmek için yaptığı uygulamaya göre gökdoğan, 4 536 m yükseklikten yerde duran avına doğru bırakıldığında 42 saniyede bu yükseklikten inip avını yakalamıştır.

Buna göre bu gökdoğan kuşu havada bir saniyede ortalama kaç metre yol almıştır?

A) 108 B) 104 C) 98 D) 93

3.



Ekvator dünyayı eninden iki parçaya ayıran hayali bir çizgidir. Yukarıdaki dünya haritası üzerinde I numara olarak gösterilmiştir. Bu çizginin uzunluğu yaklaşık olarak 40 076 kilometredir.

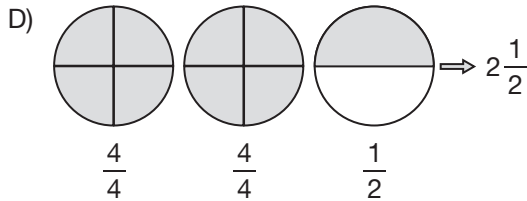
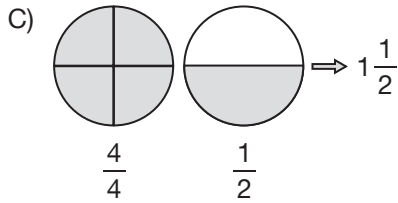
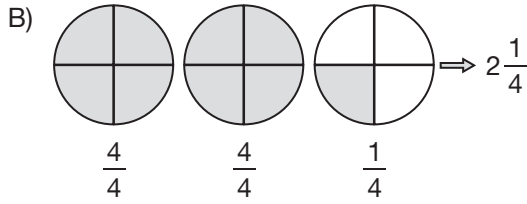
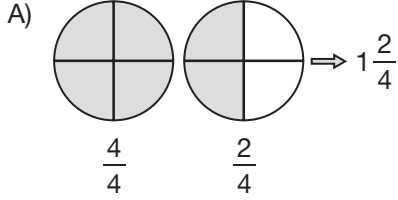
II numara ile gösterilen çizgi iki kutup noktası arasındaki uzaklığı belirtmektedir. Bu uzaklık ise yaklaşık 19 980 kilometredir.

Verilenlere göre ekvator çizgisinin uzunluğu iki kutup noktası arasındaki uzaklıktan kaç kilometre fazladır?

A) 31 196 B) 29 916
C) 21 096 D) 20 096

HIZ YAYINLARI

4. $\frac{9}{4}$ bileşik kesrini tam sayılı kesre çevirmek için aşağıdaki modellerden hangisi kullanılabilir?



5. Öğretmenin tahtaya yazdığı 9 basamaklı bir doğal sayının okunuşunda yalnızca iki kez "yüz" kelimesinin geçtiğini söyleyen Merve'nin öğretmenin tahtaya yazdığı 9 basamaklı doğal sayı aşağıdakilerden hangisi olabilir?

- A) 703 420 217 B) 308 604 903
C) 170 015 074 D) 563 084 103

6.



Her birinin içinde 126 adet hediye paketi bulunan 9 koli bir yardım derneği tarafından ihtiyaç sahiplerine dağıtılacaktır.

Buna göre dağıtılacak toplam hediye paketi sayısını zihinden işlem yaparak bulmak için aşağıdakilerden hangisinin kullanılması en uygun olur?

- A) $126 \times 2 = 252$
 $252 \times 2 = 504$
 $504 \times 2 = 1008$
B) $126 + 126 + 126 = 378$
 $126 + 126 + 126 = 378$
 $126 + 126 + 126 = 378$
 $378 + 378 + 378 = 1134$
C) $126 \times 10 = 1260$
 $1260 - 126 = 1134$
D) $126 \times 5 = 630$
 $630 \times 2 = 1260$

7.



Kitaplığımdaki macera kitapları-
mın sayısı, romanları-
mın sayısının
karesine eşittir.

Edis

Romanları-
mın sayısı Edis'in ro-
manlarının sayısından 1 eksiktir.
Macera kitapları-
mın sayısı ise
romanları-
mın sayısının kúpüne
eşittir.



Sıla

**Kitap sayıları hakkında bilgi veren arkadaş-
lardan Sıla'nın 4 romanı olduğu bilindiğine
göre Edis ve Sıla'nın macera kitaplarının
toplam sayısı kaçtır?**

- A) 102 B) 89 C) 73 D) 65

8. İhracat bir malın yabancı ülkelere döviz karşılı-
ğı yapılan satışlarıdır. Ekonomik olarak ülkemize
getirisi düşünöldüğünde ihracatın fazla olma-
sının olumlu etkileri bulunmaktadır. Aşağıda
2017 yılında ihracat yaptığımız dört ülkeden
elde edilen gelirler gösterilmiştir.

Tablo: İhracat Gelirleri (Bin Dolar)

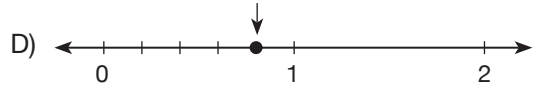
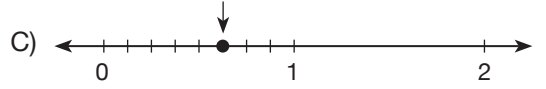
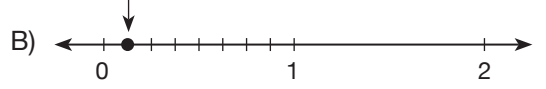
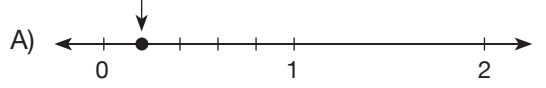
Ülke	Gelir
Rusya	2 188 444
Mısır	1 887 916
Yunanistan	1 328 212
Polonya	2 153 824

(TÜİK)

**Buna göre ihracat gelirlerinin tablodaki
ülkelere göre küçükten büyüğe doğru sı-
ralanışı aşağıdakilerden hangisinde doğru
verilmiştir?**

- A) Yunanistan, Mısır, Polonya, Rusya
B) Polonya, Rusya, Yunanistan, Mısır
C) Yunanistan, Polonya, Mısır, Rusya
D) Mısır, Yunanistan, Rusya, Polonya

9. 5 tane $\frac{1}{8}$ birim kesrinden oluşan kesrin sa-
yı doğrusunda gösterilişi aşağıdakilerden
hangisinde doğru verilmiştir?



HIZ YAYINLARI

10. Bir kutudaki şekerleri Nazlı, Fulya ve Gülşah
aşağıdaki kurala göre paylaşıyorlar.

- Nazlı kutudan 1 şeker alarak paylaşımaya başlıyor.
- Nazlı'dan sonra Fulya; sonra da Gülşah birer şeker alıyor.
- Kutudaki şekerler bitene kadar paylaşım aynı şekilde tekrarlayarak devam ediyor.

**Paylaşım bittiğinde her biri eşit sayıda şe-
ker alamadığına göre kutudaki şeker sayısı
aşağıdakilerden hangisi olabilir?**

- A) 41 B) 48 C) 57 D) 63

11.
$$\begin{array}{r} \blacktriangle \quad \star \\ \hline = \quad \quad \quad | \quad 17 \\ \hline 11 \end{array}$$


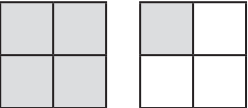
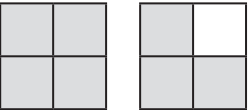
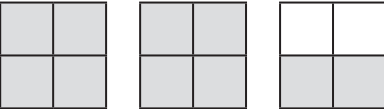
Yukarıda doğal sayılar ile yapılan bir bölme işlemi gösterilmiştir.

Bu bölme işlemine göre \blacktriangle yerine yazılabilecek en küçük sayı aşağıdakilerden hangisidir?

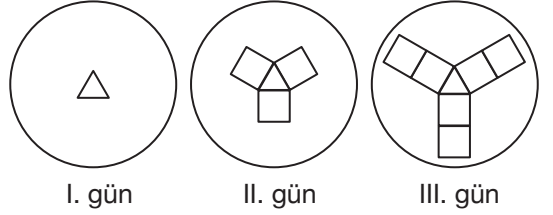
- A) 221 B) 215 C) 204 D) 187

12. \blacksquare sembolü bir bileşik kesri göstermektedir.

$2 < \blacksquare$ olduğuna göre \blacksquare yerine yazılabilecek kesrin modelle gösterimi aşağıdakilerden hangisi olabilir?

- A) 
- B) 
- C) 
- D) 

13. Zehra Hanım el işleriyle uğraşan bir ev hanımıdır. Zehra Hanım üçgen ve karelerin her bir kenarı birer sıra belirtecek şekilde beyaz bir kumaşın üzerine önce üç sıra ip ile bir üçgen motif işliyor. Daha sonra ikinci gün üçgenin birer sırası ortak olacak şekilde üç tane kare motif işliyor. Üçüncü günden itibaren de her gün üç kare motif daha ekleyerek işlemeye devam ediyor.



Buna göre Zehra Hanım'ın 5. gün sonunda yaptığı motifte toplam kaç sıra ip bulunur?


- A) 30 B) 39 C) 45 D) 58

1. Güneş farklı katmanlardan oluşur. Güneş'in merkezinde çok sıcak ve yoğun olan çekirdek bulunur. Güneş'te enerji bu katmandan açığa çıkar. Bu enerji diğer katmanlara doğru geçerek ilerler. Son olarak Güneş'in gördüğümüz katmanı olan ışık küreye ulaşır. Işık küre, yoğun ve parlak olduğundan onun altındaki katmanları göremeyiz. Işık kürenin üzerinde de renk küre ve taç küre adlı iki katman bulunur.

Güneş ile ilgili verilen paragraftan aşağıdaki sorulardan hangisine cevap verilemez?

- A) Güneş'i oluşturan farklı katmanlar var mıdır?
 B) Güneş'in enerjisi hangi katmanda açığa çıkar?
 C) Güneş'in merkezi katı hâlde midir?
 D) Güneş'in tüm katmanlarını görebilir miyiz?

2. Fen bilimleri dersinde öğretmen yapmış olduğu topaç oyunu etkinliği ile öğrencilerine Güneş'in hareketlerinden birini anlatmak istemektedir.



Yapılan etkinlik sonucu Güneş'in yapmış olduğu aşağıdaki hareketlerden hangisine ulaşılır?

- A) Güneş'in kendi etrafında yaptığı dönüş hareketi
 B) Güneş'in evrende yapmış olduğu dolanım hareketi
 C) Güneş ve Dünya'nın birlikte yaptığı dolanım hareketi
 D) Güneş ve Ay'ın birlikte yaptığı dolanım hareketi

3. **Güneşin çapı**

Milattan önce 6. yy'da Heraklitus adlı Yunanlı filozof Güneş'in çapının 35 cm olduğunu tahmin etmişti.



Heraklitus'un Güneş'in çapı için yaptığı tahmin ile ilgili aşağıda verilen ifadelerden hangisi doğrudur?

- A) Güneş'in çapını tamamen doğru olarak tahmin etmiştir.
 B) Güneş'in çapı 35 cm değil yaklaşık olarak 1000 metredir.
 C) Güneş'in çapı 35 cm değil, yaklaşık olarak Dünya'nın çapı ile aynı büyüklüktedir.
 D) Güneş'in çapı 35 cm değil, Dünya'nın çapından yaklaşık olarak 109 kat daha büyüktür.

HIZ YAYINLARI

4. Bir gök cismi olan Ay'ın yaşantımızda ayrı bir yeri vardır. Gezegenimizin tek doğal uydusu olan Ay, bize en yakın gök cisimidir. Bu sayede - - - -

Ay ile ilgili verilen paragraf aşağıdaki ifadelerden hangisi ile en uygun şekilde tamamlanır?

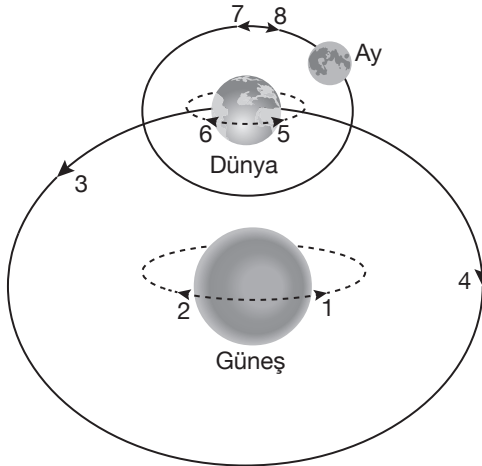
- A) ondaki madenler hakkında ayrıntılı bilgiye sahip olabiliriz.
 B) onu çıplak gözle görebiliriz.
 C) onun yüzeyinde dünyadaki gibi yaşam oluşturabiliriz.
 D) onun atmosfer tabakasını oluşturan maddeleri çıplak gözle inceleyebiliriz.

5. Ay, Güneş gibi bir ışık kaynağı değildir. Ay Güneş'ten gelen ışığı yansıtır. Ay'ın Dünya etrafındaki hareketi sırasında ışık alan kısmı değişir. Bu durum Ay'ın Dünya'dan farklı biçimlerde görünmesine neden olur. Ay'ın görünümündeki bu düzenli değişimlere Ay'ın evreleri denir.

Ay'ın evrelerinin oluşumu aşağıdakilerin hangisinde meydana geliş sırasına göre verilmiştir?

- A) Yeni ay
İlk dördün
Dolunay
Son dördün
- B) İlk dördün
Yeni ay
Dolunay
Son dördün
- C) Yeni ay
Dolunay
İlk dördün
Son dördün
- D) İlk dördün
Son dördün
Yeni ay
Dolunay

6. Fen bilimleri dersinde Tuğba Güneş, Dünya ve Ay'ın birbirine göre hareketlerini temsil etmek için aşağıdaki modeli hazırlıyor.




Tuğba, modelinde gösterilen oklardan hangilerini silerse hata yapmamış olur?

- A) 1, 3, 5 ve 7
B) 2, 4, 6 ve 8
C) 1, 3, 6 ve 8
D) 2, 4, 5 ve 7

7. Dünya'dan gözlenen Ay'ın dört ana evresi, dört ara evresi vardır. Ay'ın ana evreleri arasında ara evreleri gözlenir.

Mesut Ay'ın gözlenen ara evrelerinden Hilal'in görüntüsünü defterine aşağıdaki gibi çizmiştir.



Mesut'un defterine çizmiş olduğu Hilal görünümü, sırası ile Ay'ın aşağıda verilen hangi iki ana evresi arasında meydana gelir?

- A) Yeni Ay — İlk Dördün
- B) İlk Dördün — Dolunay
- C) Dolunay — Son Dördün
- D) Son Dördün — Yeni Ay

8. Yaz tatilinde dedesinin köyüne giden Mert bahçedeki ağaçta elma olduğunu görür. Elma almak için ağaca doğru ilerlerken bahçede kendisine doğru yaklaşan kuzu ve köpekleri sever. Ağaca tırmanmaya başladığında ağaçta salyangozların da olduğunu ve kelebeklerin etrafında uçtuğunu fark eder. Ağaçtan aldığı elmayı yıkadıktan sonra ısırdığı elmadan kurt çıktığını gören Mert elmanın diğer kısmını afiyetle yer.

Yukarıda verilen paragrafta,

- I. Mikroskopik canlılar
- II. Mantarlar
- III. Hayvanlar
- IV. Bitkiler

verilen canlı gruplarından hangisinden bahsedilmemiştir?

- A) Yalnız I
- B) I ve II
- C) III ve IV
- D) I, II ve IV

9. Gözle görülmeyen sadece mikroskop adı verilen araç ile görülen canlılara mikroskopik canlılar adı verilir. Bu canlıların en ilkelleri bakterilerdir. Bakteriler besin, nem ve uygun sıcaklıkta hemen çoğalır. Doğada her yerde bulunabilen bakterilerin yararlı ve zararlı çeşitleri vardır.

Bakteriler ile ilgili aşağıdaki ifadelerden hangisi söylenemez?

- A) Bakteriler sütün mayalanıp peynir ya da yoğurda dönüşmesini sağlayabilir.
- B) Bakteriler dışlarımızın çürümmesine neden olabilir.
- C) Bakterilerin tamamı yaşamları için gereken besini kendileri üretir.
- D) Bakteriler havada, suda ya da toprağın içinde bulunabilir.

10.

HIZ GAZETESİ

10.11.2018 № 1234567890/12

Samsun Halk Sağlığı Müdürlüğü bilinçsiz tüketilen mantarların zehirlenmeye hatta ölüme neden olabileceğini söyledi.

Araştırmalarda Türkiye’de doğal alanlarda yetişen zehirli mantarların olduğu doğrulanmaktadır. Doğal ortamlarda yetişen bu mantarların yapısında zehirli madde bulunduğu için hiç bir şekilde yenmemesi gerekir.




Verilen gazete haberi aşağıdaki mantar çeşitlerinden hangisi için yayımlanmıştır?

- A) Şapkalı
- B) Küf
- C) Parazit
- D) Çürükçül

HIZ YAYINLARI

11. Fen bilimleri dersinde öğretmen tahtaya aşağıda verilen resmi asarak öğrencilerinden bu resimdeki canlılar ile ilgili bilgi vermelerini ister.



Buna göre aşağıdaki öğrencilerden hangisinin resimdeki canlılar ile ilgili ifadesi yanlıştır?

- A) **Yusuf:** Toprağa bağlı olarak yaşarlar.
- B) **Bilge:** Birçok canlı için temel besin kaynağıdır.
- C) **Emre:** İhtiyaç duydukları besini doğrudan topraktan alırlar.
- D) **Nuray:** Güneş ışığı altında oksijen üretirler.

12. Murat, televizyonda belgesel izlerken görmüş olduğu bitkileri aşağıdaki gibi iki gruba ayırıyor.

I. grup



At kuyruğu



Eğrelti otu

II. grup



Papatya




Menekşe

Murat'ın bitkilerle yapmış olduğu grupların başlıkları aşağıda verilenlerden hangisi olabilir?

I. grup	II. grup
A) Suda yaşayan bitkiler	Karada yaşayan bitkiler
B) Çiçeksiz bitkiler	Çiçekli bitkiler
C) Ormanda yaşayan bitkiler	Çayırlarda yaşayan bitkiler
D) Tohumlu bitkiler	Tohumsuz bitkiler

13. Kenan'ın balıklar ile ilgili hazırlamış olduğu kartlardan biri aşağıda verilmiştir.

Karagöz



Boyu 40 cm'ye kadar ulaşabilir. Ülkemizde daha çok Ege Denizi ve Marmara olmak üzere bütün denizlerimizde görülür. Birçok farklı türü vardır. Derinliği 50 metreye kadar olan taşlık yerlerde sürüler halinde yaşar. Kabuklular, solucanlar ve yumuşakçalarla beslenir. Mercan ve çipura gibi balıklarla akrabadır.

Kenan'ın karagöz balığı için hazırlamış olduğu karttan,

- Karagöz balığının uzunluğu ne kadardır?
- Karagöz balığı ülkemizdeki denizlerde bulunur mu?
- Karagöz balığı etçil olarak beslenir mi?
- Karagöz balığı yumurta ile mi çoğalır?

sorularından hangilerine cevap verilebilir?

- A) I ve II
B) III ve IV
C) I, II ve III
D) I, II, III ve IV

14. Tuğba şehrinde bulunan hayvanat bahçesini gezdikten sonra görmüş olduğu hayvanlardan bazılarının resimlerini aşağıdaki gibi defterine yapıyor.



Bu hayvanların ortak özelliği aşağıdakilerin hangisinde verilmiştir?

- A) Yavrularını sütle besleme
- B) Omurgaya sahip olma
- C) Pullu ve sert bir deriye sahip olma
- D) Yumurtlayarak çoğalma


15. Mehmet'in okul bahçesinde oynarken görmüş olduğu bir canlı ile ilgili aldığı notlar aşağıda verilmiştir.

- Kabuğu var.
- Yaklaştığı anladığında korkarak kabuğunun içine girdi.
- Salgıladığı sümüksü yapıdan dolayı arkasında sümüksü bir iz bırakıyor.

Mehmet'in gözlemlemiş olduğu hayvan aşağıda verilenlerden hangisi olabilir?




Karıncı



Midye



Kelebek



Salyangoz

SINAV BAŞLAMADAN AŞAĞIDAKİ UYARILARI MUTLAKA OKUYUNUZ

1. Öğrenciler, sınav kurallarına ve salon görevlilerinin tüm uyarılarına uymak zorundadırlar.
2. Cevap kâğıdındaki kimlik bilgilerinin doğruluğunu kontrol ediniz. Bilgiler size ait değilse veya cevap kâğıdı kullanılmayacak durumdaysa sınav görevlilerine bildirin.
3. Sınav başladıktan sonra öğrencilerin salon görevlileri ve birbirleri ile konuşmaları; kalem, silgi vb. şeyleri istemeleri yasaktır.
4. Değiştirmek istediğiniz bir cevabı, yumuşak silgiyle cevap kâğıdını yıpratmadan temizce siliniz ve yeni cevabınızı kodlayınız.
5. Cevap kâğıdınızı silinmeyen bir kalemle imzalayınız.
6. Cevaplarınızı, cevap kâğıdındaki ilgili soru numarasını dikkate alarak yuvarlağın dışına taşırmadan kodlayınız.
7. Soru kitapçığının sayfalarını kontrol ediniz, baskı hatası var ise değiştirilmesini sağlayınız.
8. Soru kitapçığı üzerinde yapılmış cevap kâğıdına işaretlenmeyen cevaplar değerlendirmeye alınmayacaktır.
9. Soru kitapçığının içindeki boş alanları çözümlerinizi için kullanabilirsiniz.
10. Cevaplamaya istediğiniz sorudan başlayabilirsiniz.
11. Cevabını bilmediğiniz sorular üzerinde fazla zaman kaybetmeden diğer sorulara geçiniz. Zamanınız kalırsa bu sorulara daha sonra dönebilirsiniz.
12. Sınav puanınızın hesaplanmasında doğru ve yanlış cevaplarınız dikkate alınacaktır.
13. Sınav bitiminde, soru kitapçığı ve cevap kâğıdını salon görevlilerine teslim ediniz.
14. Sınav sırasında sözlük, hesap makinesi, saat fonksiyonu dışında özellikleri bulunan saat veya çağrı cihazı, cep telefonu, telsiz, radyo ve bilgisayar özelliği bulunan elektronik cihazları yanınızda bulundurmanız halinde sınavınız geçersiz sayılacaktır.
15. Cevap kâğıdınızı sınav süresince hiçbir öğrencinin göremeyeceği şekilde önünüzde bulundurunuz.
16. Sınavınızın değerlendirilmesi aşamasında, toplu kopya tespiti veya başka adayın sınav evrakını kullanmanız durumunda sınavınız geçersiz sayılacaktır.
17. Soruları ve sorulara verdiğiniz cevapları kaydetmeyiniz, hiçbir şekilde dışarı çıkarmayınız.
18. Sınav süresince dışarı çıkılmayacaktır.
19. Sınav evraklarını teslim etmeyenlerin sınavı geçersiz sayılacaktır.

Bu kitapçığın her hakkı saklıdır. Hangi amaçla olursa olsun, kitapçığın tamamının veya bir kısmının Hız Yayıncılık Basım Dağıtım San. ve Tic. A.Ş.'nin yazılı izni olmadan kopya edilmesi, fotoğraflarının çekilmesi, bilgisayar ortamına alınması, herhangi bir yolla çoğaltılması, yayımlanması veya başka bir amaçla kullanılması yasaktır. Bu yasağa uymayanlar, doğabilecek cezai sorumluluğu ve kitapçığın hazırlanmasındaki mali külfeti peşinen kabullenmiş sayılır.